



وزارة التربية
إدارة الشؤون التعليمية
مراقبة الامتحانات وشؤون الطلبة



نموذج الإجابة
المرحلة المتوسطة

(منهج كامل)

الدور الثاني

المادة : الاجتماعيات

الصف : السادس

العام الدراسي

2016 / 2017

السؤال الأول : يتكون من : (أ - ب) (درجة لكل نقطة)

(أ) اختر البديل المناسب من بين البدائل التي تلي العبارات بوضع خط تحتها :

- ١- العام الذي تم فيه تصدير أول شحنة من النفط الكويتي : ص ٩٠
أ- ١٩٤٤م ب- ١٩٤٥م ج- ١٩٤٦م د- ١٩٤٧م
- ٢- الدولة الأجنبية التي وقعت معها دولة الكويت اتفاقية الحماية ١٨٩٩م تسمى : ص ٦٢
أ- إيطاليا ب- البرتغال ج- الدنمارك د- بريطانيا
- ٣- المدينة الخليجية التي يقع فيها مقر مجلس التعاون لدول الخليج العربية:
أ- أبوظبي ب- الدوحة ج- الكويت د- الرياض
- ٤- الدولة الخليجية العربية التي اشتهرت بصهر معدن النحاس قديماً هي : ص ٤٧
أ- قطر ب- البحرين ج- عمان د- السعودية
- ٥- الجهة التي تقع فيها شبة الجزيرة العربية بالنسبة لقارة آسيا في: ص ٢٢
أ- الشمالية الغربية ب- الجنوبية الغربية ج- الشمالية الشرقية د- الجنوبية الشرقية
- ٦- المنطقة التي هاجر إليها آل خليفة تسمى : ص ٥٧
أ- الكويت ب- قطر ج- البحرين د- عمان

(ب) اكمل المخططات السهمية التالية :



١- الأنشطة الاقتصادية قديماً عند سكان دول الخليج العربية ص ٢٦

الزراعة الرعي الحرف اليدوية / التجارة

٢- أنواع الصناعات القائمة على النفط في دول الخليج العربية ص ٨٤

تكرير النفط البتروكيماويات الغاز الطبيعي

٣- مظاهر الحضارة الإسلامية ص ٥١

العمران الفن الصناعة

السؤال الثاني : يتكون من (أ - ب) : (درجة لكل نقطة)

(أ) اختر من القائمة (أ) ما يناسبها من القائمة (ب) بوضع الرقم المناسب: ص ٣٢

الرقم	القائمة (أ)	مكان الرقم	القائمة (ب)
١	النهام	٣	ربان السفينة .
٢	الغواص	٤	رئيس البحرية.
٣	النوخذه	١	مطرب السفينة.
٤	المجدي	٢	يغوص في أعماق البحر بحثاً عن اللؤلؤ
			يسحب الغاصة من أعماق البحر

(ب) صنف ما يلي في مكانه المناسب في الجداول التالية :

١- (مبيدات حشرية - عواصف ترابية - براكين - حرق النفايات) ص ١٣٤

مصادر تلوث الهواء الطبيعية	مصادر تلوث الهواء الطبيعية
١- مبيدات حشرية	١- عواصف ترابية
٢- حرق النفايات	٢- براكين

٢- (سهل تهامة - الوفرة - صلالة - العين) ص ٩٢

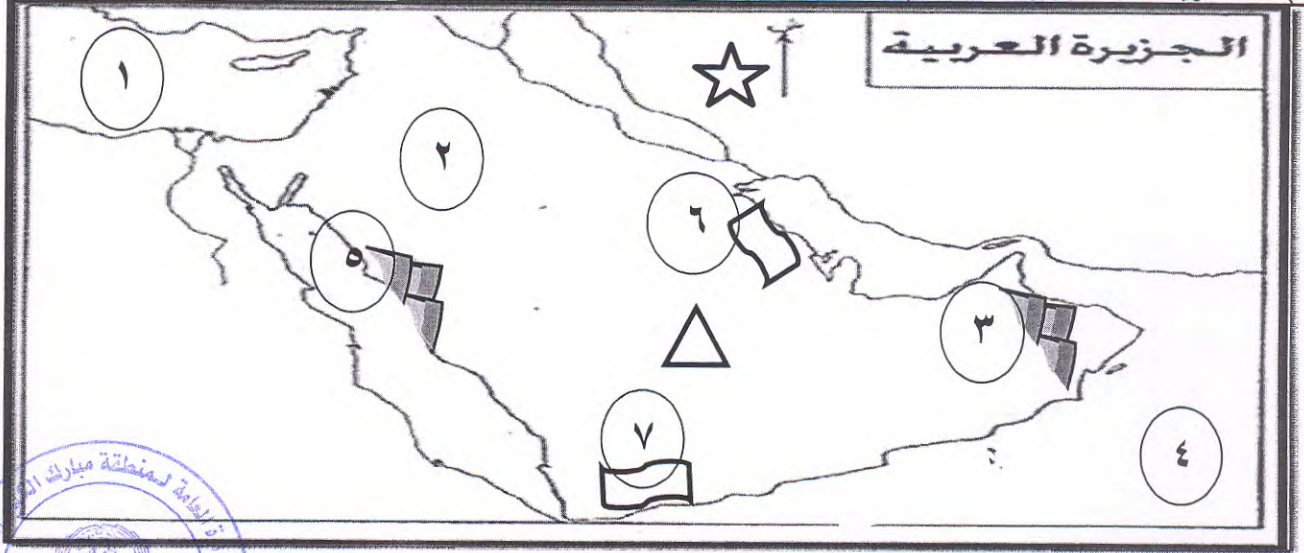
السعودية	الكويت	سلطنة عمان	الامارات
سهل الاحساء	الوفرة	صلالة	العين

١٢




السؤال الثالث : يتكون من (أ - ب - ج) : (درجة لكل نقطة)


(أ) لاحظ خريطة شبه الجزيرة العربية ثم استخلص مدلولات الأرقام و الرموز التي عليها :



- صحراء النفود يمثلها على الخريطة الرقم (٢)

- منطقة الهدار يمثلها على الخريطة الرمز△.....

- الجبل الأخضر  يمثل على الخريطة الرقم (٣)

- سهل الإحساء  يمثل على الخريطة الرقم (٦)

- بحر العرب يمثل على الخريطة الرقم (٤)

(ب) أكمل العبارات التالية بما يناسبها:

١- حالة الجو في مكان ما خلال فترات زمنية طويلة يسمى .. المناخ ص ٢٥

٢- نهاية موسم الغوص يسمى القفال ص ٣٢

٣- توجد اثار حضارة دلمون في دولة خليجية تسمى ...البحرين ص ٤٨

٤- افضل انواع السفن المستعملة قديماً في رحلة السفر اسمها .. البغلة ص ٣٤

٥- الاسم الذي كان يطلق على الخليج العربي قديماً يسمى البحر الأدنى أو شروق الشمس ص ٤٧

(ج) أكتب اسم المهنة القديمة المناسبة أسفل الصور التالية : ص ٢٩



صناعة خياطة البشوت



صناعة الخوص

السؤال الرابع : يتكون من (أ - ب - ج) : (درجة لكل نقطة)

(أ) عرف المفاهيم التالية :

- ١- إنتاج النفط : كميات النفط التي يتم استخراجها للاستفادة منها ..ص ٨٨
- ٢- نباتات معمرة : هي نباتات متوفرة طوال العام لأنها تتحمل الجفاف وارتفاع درجة الحرارة ..ص ٢٦
- ٣- التلوث : . الضرر الذي يصيب عناصر البيئة و يحولها من مفيدة إلى ضارة ص ١٣٣.

(ب) علل لما يأتي :

- ١- انصراف سكان الخليج العربية عن حرفة الغوص على اللؤلؤ في الوقت الحاضر . ص ٣١

.. ظهور اللؤلؤ الصناعي / اكتشاف النفط

- ٢- حياة السكان في البيئة الصحراوية قاسية وخشنة . ص ٢٧

.. لفقر البيئة وقلة الموارد فيها خاصة المياه.

- ٣- تعتبر سفينة البغلة أفضل أنواع السفن المستعملة بالسفر ص ٣٤

.. لمتانتها / قدرتها على نقل الحمولة الكبيرة / و تمتاز بقلة تعرضها للأخطار البحرية.

- ٤- جذب منطقة الخليج العربي لموجات سكانية . ص ١٠٨

.. بسبب الموقع الجغرافي المهم بين القارات العالم القديم .

- ٥- الحاجة الي اقامة العديد من الموانئ النفطية . ص ٩٠

.. بسبب الموقع الجغرافي المهم بين القارات العالم القديم .

(ج) قارن بين ما يلي في الجدول التالي :

الواردات	الصادرات ص ٩٩	وجه المقارنة
البضائع والسلع التي تشتريها دولنا من الخارج .	السلع والمنتجات التي تبيعها دولنا في الخارج .	المفهوم
البضائع الاستهلاكية المتنوعة / اجهزه كهربائية / مواد غذائية / ملابس ..	الغاز الطبيعي - النفط	الأمثلة (يكتفى بمثال واحد)

السؤال الخامس : يتكون من (أ - ب) : (درجة لكل نقطة)

(أ) اكتب نقطتين فيما يلي :

١- أهداف مجلس التعاون لدول الخليج العربي : ص ٧٦

تحقيق التعاون بين الدول الاعضاء في جميع المجالات

تحقيق الترابط والصلات بين دول مجلس التعاون / العمل على التقدم في مجال العلمى .

٢- الروابط التي تربط أبناء دول الخليج العربية : ص ١١٧ / ١٢٠

اللغة والدين / التاريخ المشتركة / وحدة الاصل / العادات والتقاليد

٣- اسباب الزيادة السكانية في دولة الكويت ودول الخليج العربية : ص ١١٠

الزيادة الطبيعية / الزيادة غير الطبيعية / الهجرة

٤- وسائل صيد الاسماك القديمة في دول الخليج العربية : ص ٣١

الميدار / الحظرة / القرقور

(ب) : لاحظ صورة اتفاقية إلغاء الحماية التي وقعتها دولة الكويت ثم أجب عن الأسئلة :

١- ما اسم حاكم دولة الكويت في الصورة ؟

عبدالله السالم الصباح ص ٦٣

٢- ما المقصود بمفهوم الاستقلال ؟

-تحرر الدولة من المستعمر الأجنبي و قيامها بمسؤولية إدارة شؤونها الداخلية و الخارجية .

٣- ما النتائج المترتبة من إلغاء دول الخليج العربية اتفاقيات الحماية مع بريطانيا؟
التحرر من التبعية البريطانية / انسحاب بريطانيا من منطقة الخليج العربية

اعتراف بريطانيا في استقلال دول الخليج العربية ص ٦٣



١٢

انتهت الأسئلة مع تمنياتنا لكم بالنجاح